

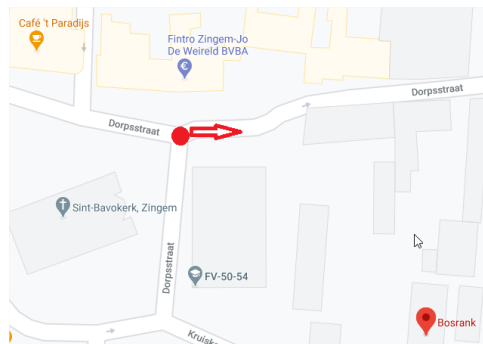
Beste wandelaar,

Rond deze tijd organiseren wij - de leden van de ouderwerking van GBZ De Bosrank - normaal gezien onze jaarlijkse quiz. Echter door de huidige omstandigheden kan die jammer genoeg niet doorgaan. Daarom organiseren we met deze wandel-, zoek- en oriëntatietocht een coronaproof alternatief. Deze tocht start op zaterdag 27 februari en eindigt op zondag 18 april. De route is ongeveer 5km lang (2u wandelen) en gaat langs een aantal onverharde wegen, dus aangepast schoeisel is aangeraden.

Veel zoek- en wandelplezier!

De route wordt aangegeven via een **'stripkaart'** of **visgraat**.

We starten onze route op de parking aan de Bosrank in Zingem en stappen de Dorpsstraat in.



Hoe gebruik je deze kaart?

Je loopt langs een rechte lijn, van onder naar boven. (beginnend op de stip)

De rechte lijn is de te volgen route. De streepjes aan de zijkant zijn de wegen die je **niet** in moet slaan.

—— Verharde weg

- - - - Onverharde weg

Hieronder een voorbeeld van hoe zo'n visgraatroute werkt.

In werkelijkheid volg je de rode pijl. Begin op de stip.

1) Je komt eerst bij een kruispunt. Daar moet je twee wegen aan de linkerkant laten liggen.

Op het kruispunt betekent dit dus dat je rechtsaf moet slaan.

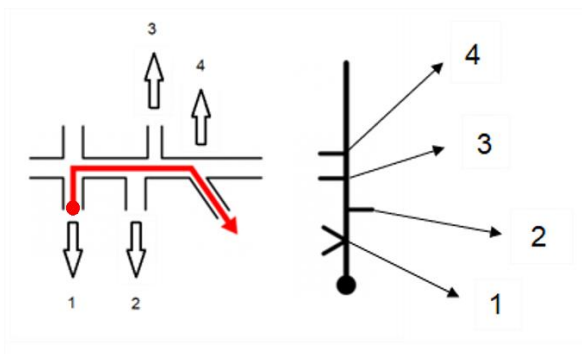
2) Daarna moet je een weg rechts laten liggen, dus ga je rechtdoor.

Een streepje aan de linkerkant kan betekenen dat je niet links mag afslaan

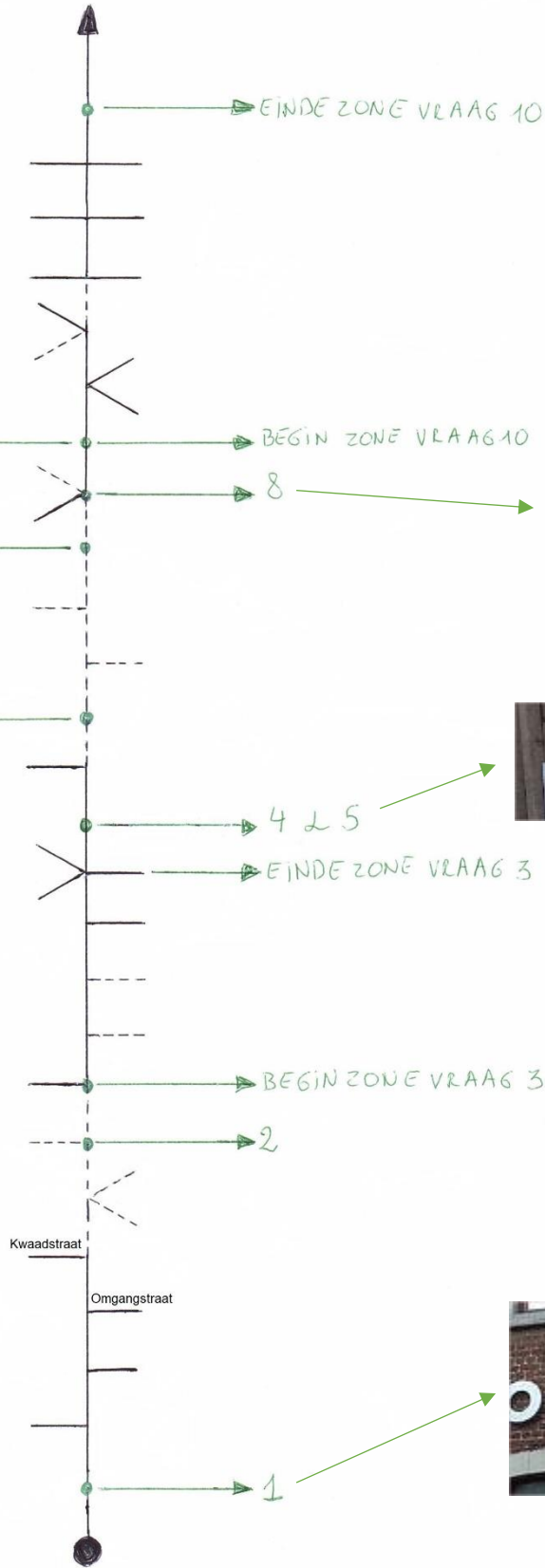
⇒ 3) Hier moet je een weg links laten liggen, dus ga je rechtdoor.

maar kan ook zijn dat je niet rechtdoor mag gaan.

⇒ 4) Hier laat je een weg links liggen en ga je dus niet rechtdoor, maar sla je rechtsaf.



De route



— Verharde weg - - - Onverharde weg

Op de route is via een (groene) pijl aangegeven welke vraag moet worden beantwoord.

Vragen

Alles is te zien vanop de openbare weg. Op privégebied hoeft u niets te zoeken.

De vragen zijn een combinatie van zoek- en quizvragen.

De letters naast het juiste antwoord kan je gebruiken om op het laatste blad het woord te vinden.

1) Wat was er tussen 1912 en 1985 gehuisvest in dit huis?

School : A

Klooster : B

Opvangtehuis : C

2) Ga op zoek naar de schat die wordt omringd door hout.

We zoeken een woord van 7 letters waarvan we de laatste letter invullen om het woord te vinden.

3) Zet de onderstaande 4 foto's die je in deze zone zult vinden in de juiste volgorde.

Vul deze in de juiste volgorde in in het woord.



E



E



S



I

4) Hoe heet dit terrein?

Vul de vierde letter van het 2e woord in.


5) Welke sport beoefenen ze op dit terrein?


Kruisboogschieten : S

Boogschieten op staande wip : R

Kleiduifschieten : T

6) Wat is de wateroppervlakte van de 2 vijvers samen? Respecteer dat dit een privé terrein is, enkel toegankelijk voor leden van de hengselclub. Doe een inschatting op basis van wat je op afstand ziet of adhv google maps.

40 keer  m² : R

6 keer  m² : K

5000 m² : E

7) Hoe groot is de omtrek van deze mooie wilgenboom?

4,5 m : K

5,5 m : L

6,5 m : M

8) Wat was de voormalige functie van hoeve 'Stuyvenberg'?

Kruidenierswinkel : I

Schipperswinkel : J

Herberg(-café) : K

9) Tel het aantal baksteenrijen op de bovenkant van dit brugje.

158 : S

169 : T

173 : V

10) Noteer in deze zone de huisnummers bij volgende foto's. Wat is de som van deze 4 huisnummers?



- 64 : L
- 71 : F
- 53 : N

Elke vraag zal een letter opleveren waarmee je onderstaand woord kan ontcijferen.

Vraag 10	Vraag 6	Vraag 2	Vraag 9	Vraag 3 Foto1	Vraag 8	Vraag 5	Vraag 3 Foto2	Vraag 4	Vraag 1	Vraag 3 Foto3	Vraag 7	Vraag 3 Foto4

Schiftingsvraag: Hoeveel juiste antwoorden zullen er gemaild worden?

Mail het woord + antwoord op de schiftingsvraag tegen **uiterlijk 30 april** naar:
ouderwerking@gbz-de-bosrank.be
 en maak kans op een leuke prijs.

Leuke foto's van onderweg of eventuele opmerkingen mag je ook altijd mailen.